



**GRADE 1 – KHỐI 1**

Time allowed: 60 minutes

Thời gian thi: 60 phút

**Question Paper**  
*Phiếu câu hỏi*

**Instructions to Contestants: (Hướng dẫn thi)**


1. Each contestant should have ONE Question-Answer Book which CANNOT be taken away.  
*Mỗi thí sinh được cấp MỘT bộ Phiếu câu hỏi - Phiếu trả lời. Thí sinh KHÔNG ĐƯỢC mang tài liệu ra ngoài phòng thi.*
2. There are 2 sections in this exam. Section A consists of 10 questions. Each question carries 4 marks. Section B consists of 10 questions. Each question carries 6 marks. The total number of questions is 20. Total score is 100 marks. No points are deducted for incorrect answers or empty answers.  
*Đề thi gồm 2 phần. Phần A gồm 10 câu, mỗi câu 4 điểm. Phần B gồm 10 câu, mỗi câu 6 điểm. Đề thi có tất cả 20 câu hỏi với tổng số điểm là 100. Trả lời sai hoặc không trả lời đều không bị trừ điểm.*
3. All answers should be filled in the ANSWER SHEET.  
*Tất cả đáp án phải được tô vào PHIẾU TRẢ LỜI.*
4. NO calculators can be used during the contest.  
*Tuyệt đối KHÔNG sử dụng máy tính trong quá trình thi.*
5. This Question-Answer Book will be collected at the end of the contest.  
*Bộ Phiếu câu hỏi – Phiếu trả lời sẽ được thu lại sau khi thí sinh hoàn thành bài thi.*
6. DO NOT turn over this Question-Answer Book without approval of the examiner.  
*Thí sinh KHÔNG tự ý xem đề khi chưa có hiệu lệnh của giám thị.*

Otherwise, contestant may be DISQUALIFIED.

*Nếu thí sinh vi phạm một trong các điều trên, BTC có quyền hủy kết quả thi của thí sinh đó.*



- 7) Refer to the figure below, how many square(s) is / are there?  
 Hỏi có bao nhiêu hình vuông trong hình dưới đây?



- A. 10                      B. 12                      C. 11                      D. 13
- 8) By observing the equation, which number should be filled in the box?  
 Quan sát phép tính dưới đây để điền số thích hợp vào ô trống.

$$27 + \square = 43$$

- A. 26                      B. 60                      C. 16                      D. 70
- 9) By observing the pattern, what is the missing figure?  
 Quan sát quy luật dưới đây để tìm hình còn thiếu.



- A. ■                      B. ▲                      C. ★                      D. ▼
- 10) By observing the pattern, what is the number in the space provided?  
 Quan sát quy luật dưới đây để điền số thích hợp vào chỗ trống.

$$68, 55, 42, 29, \underline{\quad}$$

- A. 15                      B. 28                      C. 26                      D. 16

**SECTION B: 11<sup>th</sup> to 20<sup>th</sup> Question (Each question carries 6 marks)**

PHẦN B: Từ câu 11 đến câu 20 (Mỗi câu trả lời đúng được 6 điểm)

- 11) Refer to the puzzle, find the value of A.  
 Tìm giá trị của A trong phép tính dưới đây.

$$\begin{array}{r} A \quad B \\ + \quad B \quad B \\ \hline 8 \quad 0 \end{array}$$

- A. 5                      B. 3                      C. 2                      D. 6

- 12) It is known as 1 hour equals 60 minutes. Mum sleeps from 2:35pm and wakes up at 4:55pm. How many minutes does mum sleep in total?

*Biết rằng 1 giờ bằng 60 phút. Mẹ ngủ từ 2:35 chiều đến 4:55 chiều. Hỏi mẹ đã ngủ bao nhiêu phút?*

A. 20                      B. 90                      C. 160                      D. 140

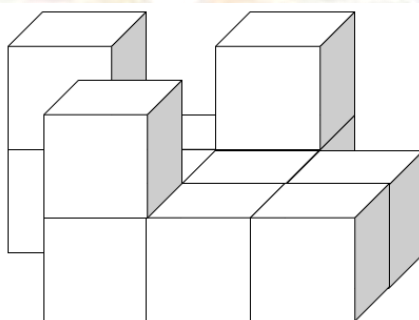
- 13) Ming has \$44. Mum gives Ming \$23. Ming uses \$8. How much does Ming have now?

*Ming có 44 đô-la. Mẹ cho Ming thêm 23 đô-la. Sau đó Ming tiêu 8 đô-la. Hỏi lúc này Ming còn lại bao nhiêu đô-la?*

A. 13                      B. 75                      C. 69                      D. 59

- 14) Refer to the figure below, at least how many cubes are there?

*Hỏi có ít nhất bao nhiêu hình lập phương trong hình dưới đây?*



A. 12                      B. 11                      C. 13                      D. 10

- 15) If C is a 1-digit number, what is the value of C if the equation below is correct?

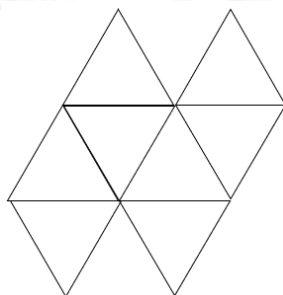
*Nếu C là số có 1 chữ số, tìm giá trị của C để được phép tính đúng dưới đây.*

$$6 \times C = 8 + 8 + 8 + 8 + 8 + 8$$

A. 8                      B. 6                      C. 4                      D. 10

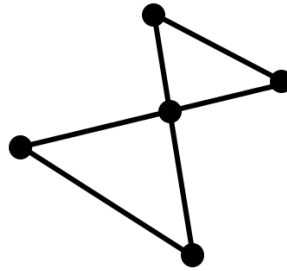
- 16) Refer to the figure below, how many triangles are there?

*Hỏi có bao nhiêu hình tam giác trong hình dưới đây?*



A. 11                      B. 9                      C. 8                      D. 10

- 17) Refer to the figure below, how many line segments are there?  
 Hỏi có bao nhiêu đoạn thẳng trong hình dưới đây?



- A. 7                      B. 6                      C. 8                      D. 9

- 18) Refer to the figure below, which figure should be filled in box C?  
 Tìm hình thích hợp để điền vào ô C trong hình dưới đây.



- A. ▲                      B. ◆                      C. ★                      D. ▒

- 19) Yan has 13 \$1 coins and 2 \$5 coins. At most how many \$2 coins can she exchange?  
 Yan có 13 đồng xu 1 đô-la và 2 đồng xu 5 đô-la. Hỏi cô bé có thể đổi được nhiều nhất bao nhiêu đồng xu 2 đô-la?

- A. 13                      B. 14                      C. 11                      D. 12

- 20) An egg weighs 40g and a basket weighs 250g. There are 5 eggs in the basket now, how many grams is the basket in total?  
 Một quả trứng nặng 40g và một cái rổ nặng 250g. Nếu có 5 quả trứng bên trong rổ, hỏi rổ đó nặng tất cả bao nhiêu gam?

- A. 400                      B. 450                      C. 250                      D. 200